


Je consolide mes connaissances



1 Utilise un calendrier et complète.

- Le 26 avril est un
- Écris la date du premier jour du mois de mars :
- Écris la date du deuxième mardi du mois de mars :
- Écris la date du lendemain du 31 mars :
- Dans une semaine, il y a jours.
- Dans le mois de mars, il y a jours.
- Dans le mois d'avril, il y a jours.
- Dans le mois de mars, il y a dimanches.
- Dans le mois d'avril, il y a jeudis.


2 Complète.



Il est



Il est



Il est

Pour les exercices 3 et 4, utilise ce quadrillage.

- 3 La tortue a choisi une salade. Pour y aller, elle a suivi le chemin qui est codé :

Trace le chemin.

Quel numéro de salade a choisi la tortue ?

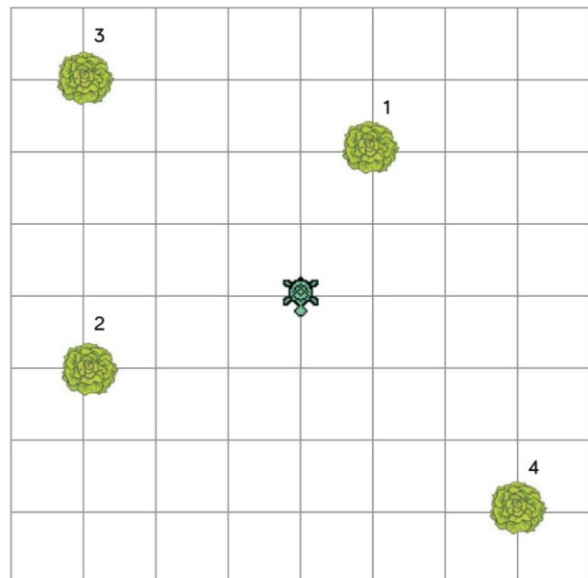
av 2

tg

av 3

td

av 1



- 4 Trace un chemin, le plus court possible, qui va de la tortue à la salade 2.

Code ce chemin.

.....

.....

.....

.....

.....